

# 中間試験解答例

情報工学科 篠埜 功

2014年6月2日

問1(10点) 以下の3点に最も近い1次関数(直線)を求め、3点とともに図示せよ。近さの尺度としては、 $y$ 座標の差の2乗の和(の半分)を用いよ。

$$(0, 0), (1, 1), (3, 4)$$

(解答例) 求める関数を  $f(x) = ax + b$ 、与えられた3点を  $(x_1, y_1) = (0, 0)$ ,  $(x_2, y_2) = (1, 1)$ ,  $(x_3, y_3) = (3, 4)$  とおく。関数  $f(x)$  と3点の  $y$  座標の差の2乗和の半分

$$J = \frac{1}{2} \sum_{i=1}^3 (f(x_i) - y_i)^2 = \frac{1}{2} \sum_{i=1}^3 (ax_i + b - y_i)^2$$

を最小にするような  $a, b$  を求めればよい。 $J$  を最小にするには、 $J$  の  $a, b$  での偏微分が0になる点を求めればよい。つまり、

$$\frac{\partial J}{\partial a} = 0, \frac{\partial J}{\partial b} = 0$$

を解けばよい。まず、 $a$  での偏微分は、

$$\begin{aligned} \frac{\partial J}{\partial a} &= \frac{\partial}{\partial a} \left\{ \frac{1}{2} \sum_{i=1}^3 (ax_i + b - y_i)^2 \right\} \\ &= \frac{1}{2} \sum_{i=1}^3 \frac{\partial}{\partial a} (ax_i + b - y_i)^2 \\ &= \frac{1}{2} \sum_{i=1}^3 2(ax_i + b - y_i)x_i \\ &= \sum_{i=1}^3 (ax_i + b - y_i)x_i \\ &= \sum_{i=1}^3 (ax_i^2 + bx_i - x_i y_i) \\ &= a \sum_{i=1}^3 x_i^2 + b \sum_{i=1}^3 x_i - \sum_{i=1}^3 x_i y_i \end{aligned}$$

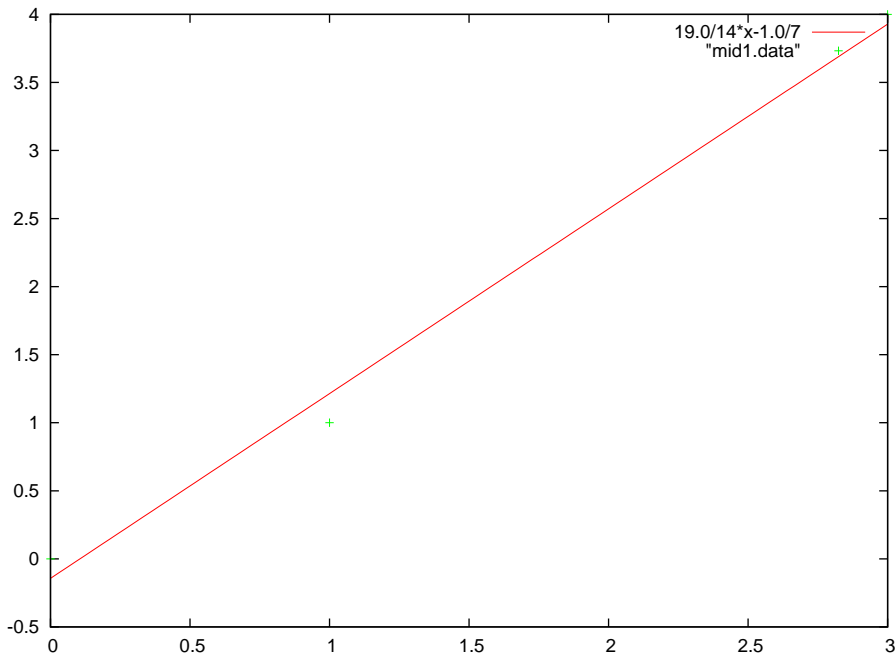


図 1:  $f(x) = \frac{19}{14}x - \frac{1}{7}$  と与えられた 3 点の比較

である。次に、 $b$  での偏微分は、

$$\begin{aligned}
 \frac{\partial J}{\partial b} &= \frac{\partial}{\partial b} \left\{ \frac{1}{2} \sum_{i=1}^3 (ax_i + b - y_i)^2 \right\} \\
 &= \frac{1}{2} \sum_{i=1}^3 \frac{\partial}{\partial b} (ax_i + b - y_i)^2 \\
 &= \frac{1}{2} \sum_{i=1}^3 2(ax_i + b - y_i) \\
 &= \sum_{i=1}^3 (ax_i + b - y_i) \\
 &= a \sum_{i=1}^3 x_i + b \sum_{i=1}^3 1 - \sum_{i=1}^3 y_i
 \end{aligned}$$

である。これらを 0 とおくと、

$$\begin{aligned}
 10a + 4b - 13 &= 0 \\
 4a + 3b - 5 &= 0
 \end{aligned}$$

が得られ、これを解くと、 $a = \frac{19}{14}, b = -\frac{1}{7}$  となる。よって求める関数は、

$$f(x) = \frac{19}{14}x - \frac{1}{7}$$

である。これを 3 点とともに図示すると図 1 のようになる。図 1 において、緑色の + 記号が与えられた点であり、赤色の直線が上記の 1 次関数  $f(x)$  である。

問2(10点) 以下の3点に最も近い1次関数(直線)を求め、3点とともに図示せよ。近さの尺度としては、 $y$ 座標の差の2乗の和(の半分)を用いよ。

$$(0, 1), (1, 0), (2, -2)$$

(解答例) 求める関数を  $f(x) = ax + b$ 、与えられた3点を  $(x_1, y_1) = (0, 1), (x_2, y_2) = (1, 0), (x_3, y_3) = (2, -2)$  とおく。関数  $f(x)$  と3点の  $y$ 座標の差の2乗和の半分

$$J = \frac{1}{2} \sum_{i=1}^3 (f(x_i) - y_i)^2 = \frac{1}{2} \sum_{i=1}^3 (ax_i + b - y_i)^2$$

を最小にするような  $a, b$  を求めればよい。 $J$  を最小にするには、 $J$  の  $a, b$  での偏微分が0になる点を求めればよい。つまり、

$$\frac{\partial J}{\partial a} = 0, \frac{\partial J}{\partial b} = 0$$

を解けばよい。まず、 $a$  での偏微分は、

$$\begin{aligned} \frac{\partial J}{\partial a} &= \frac{\partial}{\partial a} \left\{ \frac{1}{2} \sum_{i=1}^3 (ax_i + b - y_i)^2 \right\} \\ &= \frac{1}{2} \sum_{i=1}^3 \frac{\partial}{\partial a} (ax_i + b - y_i)^2 \\ &= \frac{1}{2} \sum_{i=1}^3 2(ax_i + b - y_i)x_i \\ &= \sum_{i=1}^3 (ax_i + b - y_i)x_i \\ &= \sum_{i=1}^3 (ax_i^2 + bx_i - x_i y_i) \\ &= a \sum_{i=1}^3 x_i^2 + b \sum_{i=1}^3 x_i - \sum_{i=1}^3 x_i y_i \end{aligned}$$

である。次に、 $b$  での偏微分は、

$$\begin{aligned} \frac{\partial J}{\partial b} &= \frac{\partial}{\partial b} \left\{ \frac{1}{2} \sum_{i=1}^3 (ax_i + b - y_i)^2 \right\} \\ &= \frac{1}{2} \sum_{i=1}^3 \frac{\partial}{\partial b} (ax_i + b - y_i)^2 \\ &= \frac{1}{2} \sum_{i=1}^3 2(ax_i + b - y_i) \\ &= \sum_{i=1}^3 (ax_i + b - y_i) \\ &= a \sum_{i=1}^3 x_i + b \sum_{i=1}^3 1 - \sum_{i=1}^3 y_i \end{aligned}$$

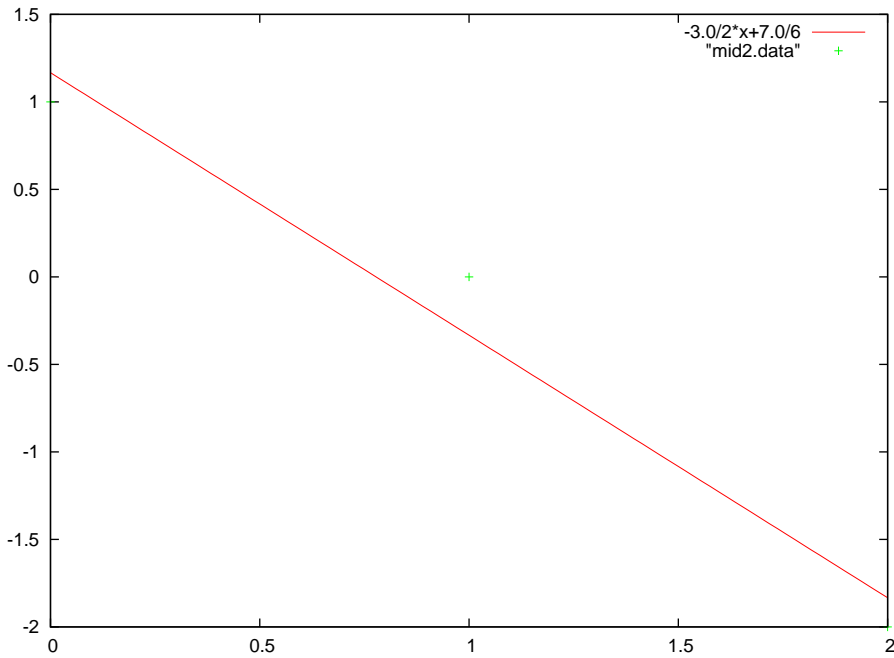


図 2:  $f(x) = -\frac{3}{2}x + \frac{7}{6}$  と与えられた 3 点の比較

である。これらを 0 とおくと、

$$5a + 3b + 4 = 0$$

$$3a + 3b + 1 = 0$$

が得られ、これを解くと、 $a = -\frac{3}{2}, b = \frac{7}{6}$  となる。よって求める関数は、

$$f(x) = -\frac{3}{2}x + \frac{7}{6}$$

である。これを 3 点とともに図示すると図 2 のようになる。図 2 において、緑色の + 記号が与えられた点であり、赤色の直線が上記の 1 次関数  $f(x)$  である。

問 3 (10 点) 以下の 4 点に最も近い 2 次関数を求め、4 点とともに図示せよ。近さの尺度としては、 $y$  座標の差の 2 乗の和 (の半分) を用いよ。

$$(-1, 0), (0, -1), (1, 0), (2, 1)$$

(解答例) 求める関数を  $f(x) = ax^2 + bx + c$ 、与えられた 4 点を  $(x_1, y_1) = (-1, 0), (x_2, y_2) = (0, -1), (x_3, y_3) = (1, 0), (x_4, y_4) = (2, 1)$  とおく。関数  $f(x)$  と 4 点の  $y$  座標の差の 2 乗和の半分

$$J = \frac{1}{2} \sum_{i=1}^4 (f(x_i) - y_i)^2 = \frac{1}{2} \sum_{i=1}^4 (ax_i^2 + bx_i + c - y_i)^2$$

を最小にするような  $a, b, c$  を求めればよい。 $J$  を最小にするには、 $J$  の  $a, b, c$  での偏微分が 0 になる点を求めればよい。つまり、

$$\frac{\partial J}{\partial a} = 0, \quad \frac{\partial J}{\partial b} = 0, \quad \frac{\partial J}{\partial c} = 0$$

を解けばよい。まず、 $a$  での偏微分は、

$$\begin{aligned}
 \frac{\partial J}{\partial a} &= \frac{\partial}{\partial a} \left\{ \frac{1}{2} \sum_{i=1}^4 (ax_i^2 + bx_i + c - y_i)^2 \right\} \\
 &= \frac{1}{2} \sum_{i=1}^4 \frac{\partial}{\partial a} (ax_i^2 + bx_i + c - y_i)^2 \\
 &= \frac{1}{2} \sum_{i=1}^4 2(ax_i^2 + bx_i + c - y_i) \frac{\partial}{\partial a} (ax_i^2 + bx_i + c - y_i) \\
 &= \frac{1}{2} \sum_{i=1}^4 2(ax_i^2 + bx_i + c - y_i)x_i^2 \\
 &= \sum_{i=1}^4 (ax_i^2 + bx_i + c - y_i)x_i^2 \\
 &= \sum_{i=1}^4 (ax_i^4 + bx_i^3 + cx_i^2 - x_i^2 y_i) \\
 &= a \sum_{i=1}^4 x_i^4 + b \sum_{i=1}^4 x_i^3 + c \sum_{i=1}^4 x_i^2 - \sum_{i=1}^4 x_i^2 y_i
 \end{aligned}$$

である。次に、 $b$  での偏微分は、

$$\begin{aligned}
 \frac{\partial J}{\partial b} &= \frac{\partial}{\partial b} \left\{ \frac{1}{2} \sum_{i=1}^4 (ax_i^2 + bx_i + c - y_i)^2 \right\} \\
 &= \frac{1}{2} \sum_{i=1}^4 \frac{\partial}{\partial b} (ax_i^2 + bx_i + c - y_i)^2 \\
 &= \frac{1}{2} \sum_{i=1}^4 2(ax_i^2 + bx_i + c - y_i) \frac{\partial}{\partial b} (ax_i^2 + bx_i + c - y_i) \\
 &= \frac{1}{2} \sum_{i=1}^4 2(ax_i^2 + bx_i + c - y_i)x_i \\
 &= \sum_{i=1}^4 (ax_i^2 + bx_i + c - y_i)x_i \\
 &= \sum_{i=1}^4 (ax_i^3 + bx_i^2 + cx_i - x_i y_i) \\
 &= a \sum_{i=1}^4 x_i^3 + b \sum_{i=1}^4 x_i^2 + c \sum_{i=1}^4 x_i - \sum_{i=1}^4 x_i y_i
 \end{aligned}$$

である。次に、 $c$  での偏微分は、

$$\begin{aligned}
 \frac{\partial J}{\partial c} &= \frac{\partial}{\partial c} \left\{ \frac{1}{2} \sum_{i=1}^4 (ax_i^2 + bx_i + c - y_i)^2 \right\} \\
 &= \frac{1}{2} \sum_{i=1}^4 \frac{\partial}{\partial c} (ax_i^2 + bx_i + c - y_i)^2 \\
 &= \frac{1}{2} \sum_{i=1}^4 2(ax_i^2 + bx_i + c - y_i) \frac{\partial}{\partial c} (ax_i^2 + bx_i + c - y_i)
 \end{aligned}$$

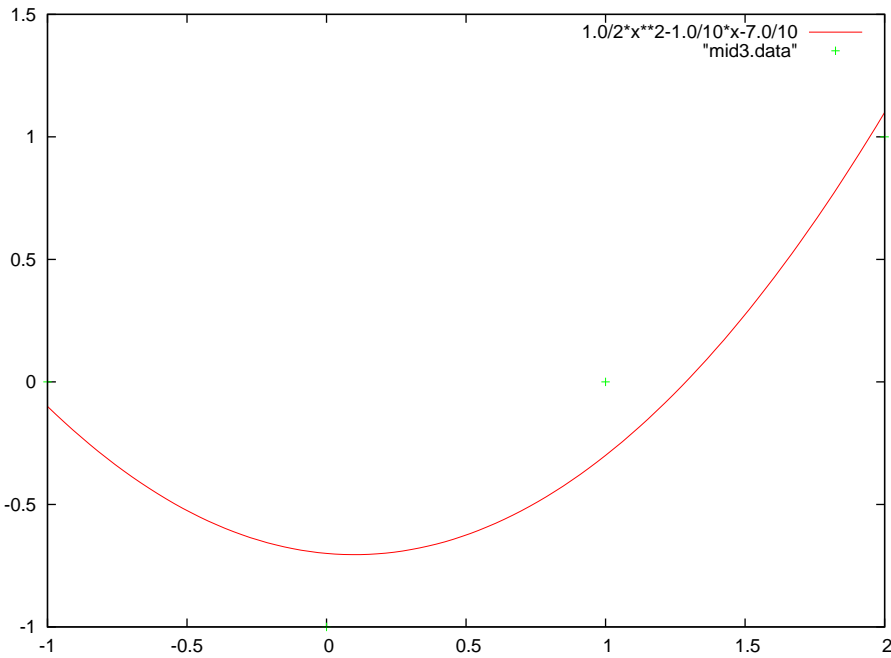


図 3:  $f(x) = \frac{1}{2}x^2 - \frac{1}{10}x - \frac{7}{10}$  と与えられた 4 点の比較

$$\begin{aligned}
 &= \frac{1}{2} \sum_{i=1}^4 2(ax_i^2 + bx_i + c - y_i) \\
 &= \sum_{i=1}^4 (ax_i^2 + bx_i + c - y_i) \\
 &= a \sum_{i=1}^4 x_i^2 + b \sum_{i=1}^4 x_i + c \sum_{i=1}^4 1 - \sum_{i=1}^4 y_i
 \end{aligned}$$

である。これらを 0 とおくと、

$$18a + 8b + 6c - 4 = 0 \quad \dots (1)$$

$$8a + 6b + 2c - 2 = 0 \quad \dots (2)$$

$$6a + 2b + 4c = 0 \quad \dots (3)$$

となる。これを解くと、

$$a = \frac{1}{2}, \quad b = -\frac{1}{10}, \quad c = -\frac{7}{10}$$

を得る。以上より、求める関数は

$$f(x) = \frac{1}{2}x^2 - \frac{1}{10}x - \frac{7}{10}$$

である。これを 4 点とともに図示すると、図 3 のようになる。図 3 において、緑色の + 記号が与えられた点であり、赤色の曲線が上記の 2 次関数  $f(x)$  である。

問 4 (10 点) 列ベクトル  $\mathbf{a} = \begin{pmatrix} 3 \\ 2 \\ 6 \end{pmatrix}$  を列ベクトル  $\mathbf{u}_1 = \begin{pmatrix} 1 \\ 1 \\ 1 \end{pmatrix}$ ,  $\mathbf{u}_2 = \begin{pmatrix} 1 \\ 0 \\ 0 \end{pmatrix}$  の

線形結合 ( $\sum_{k=1}^2 c_k \mathbf{u}_k = c_1 \mathbf{u}_1 + c_2 \mathbf{u}_2$  の形) で近似せよ。つまり、 $c_1 \mathbf{u}_1 + c_2 \mathbf{u}_2$  が  $\mathbf{a}$  に最も近くなるような  $c_1, c_2$  を求めよ。近さの尺度は差のノルムの 2 乗の半分、つまり

$$J = \frac{1}{2} \left\| \sum_{k=1}^2 c_k \mathbf{u}_k - \mathbf{a} \right\|^2$$

とせよ。ノルムの定義は、 $\mathbf{x} = \begin{pmatrix} x_1 \\ x_2 \\ x_3 \end{pmatrix}$  のとき、

$$\|\mathbf{x}\| = \sqrt{(\mathbf{x}, \mathbf{x})} = \sqrt{\sum_{k=1}^3 x_k^2}$$

である。

教科書 1.3.1 節のようにベクトル  $\mathbf{a}, \mathbf{u}_1, \mathbf{u}_2$  を変数のままで連立一次方程式にしてから数値を入れて解く方法 (解答例 1) と、最初に  $\mathbf{a}, \mathbf{u}_1, \mathbf{u}_2$  を具体的なベクトルに置き換えてしまう方法 (解答例 2) の 2 通りの解法を示す。解答例 1 の方が見通しがよい。

(解答例 1) まず  $J$  を展開すると

$$\begin{aligned} J &= \frac{1}{2} \left\| \sum_{k=1}^2 c_k \mathbf{u}_k - \mathbf{a} \right\|^2 \\ &= \frac{1}{2} \left( \sum_{k=1}^2 c_k \mathbf{u}_k - \mathbf{a}, \sum_{k=1}^2 c_k \mathbf{u}_k - \mathbf{a} \right) \\ &= \frac{1}{2} \left\{ \left( \sum_{k=1}^2 c_k \mathbf{u}_k, \sum_{k=1}^2 c_k \mathbf{u}_k \right) - 2 \left( \mathbf{a}, \sum_{k=1}^2 c_k \mathbf{u}_k \right) + \|\mathbf{a}\|^2 \right\} \\ &= \frac{1}{2} \left\{ \sum_{k,l=1}^2 c_k c_l (\mathbf{u}_k, \mathbf{u}_l) - 2 \sum_{k=1}^2 c_k (\mathbf{a}, \mathbf{u}_k) + \|\mathbf{a}\|^2 \right\} \end{aligned}$$

となる。これを  $c_i$  ( $i = 1, 2$ ) で偏微分すると、

$$\begin{aligned} \frac{\partial J}{\partial c_i} &= \frac{\partial}{\partial c_i} \frac{1}{2} \left\{ \sum_{k,l=1}^2 c_k c_l (\mathbf{u}_k, \mathbf{u}_l) - 2 \sum_{k=1}^2 c_k (\mathbf{a}, \mathbf{u}_k) + \|\mathbf{a}\|^2 \right\} \\ &= \frac{1}{2} \left\{ \frac{\partial}{\partial c_i} \sum_{k,l=1}^2 c_k c_l (\mathbf{u}_k, \mathbf{u}_l) - 2 \frac{\partial}{\partial c_i} \sum_{k=1}^2 c_k (\mathbf{a}, \mathbf{u}_k) \right\} \\ &= \frac{1}{2} \left\{ 2 \sum_{k=1}^2 c_k (\mathbf{u}_k, \mathbf{u}_i) - 2 (\mathbf{a}, \mathbf{u}_i) \right\} \\ &= \sum_{k=1}^2 c_k (\mathbf{u}_k, \mathbf{u}_i) - (\mathbf{a}, \mathbf{u}_i) \end{aligned}$$

となる。よって、 $\frac{\partial J}{\partial c_1} = 0$  と  $\frac{\partial J}{\partial c_2} = 0$  をまとめて行列表現で書くと

$$\begin{pmatrix} (\mathbf{u}_1, \mathbf{u}_1) & (\mathbf{u}_2, \mathbf{u}_1) \\ (\mathbf{u}_1, \mathbf{u}_2) & (\mathbf{u}_2, \mathbf{u}_2) \end{pmatrix} \begin{pmatrix} c_1 \\ c_2 \end{pmatrix} = \begin{pmatrix} (\mathbf{a}, \mathbf{u}_1) \\ (\mathbf{a}, \mathbf{u}_2) \end{pmatrix}$$

となる。これに問題の数値を代入すると、

$$\begin{pmatrix} 3 & 1 \\ 1 & 1 \end{pmatrix} \begin{pmatrix} c_1 \\ c_2 \end{pmatrix} = \begin{pmatrix} 11 \\ 3 \end{pmatrix}$$

となる。これを解くと、

$$\begin{pmatrix} c_1 \\ c_2 \end{pmatrix} = \begin{pmatrix} 4 \\ -1 \end{pmatrix}$$

となる。以上より、 $a$  に最も近い  $u_1, u_2$  の線形結合は、

$$4\mathbf{u}_1 - \mathbf{u}_2 = 4 \begin{pmatrix} 1 \\ 1 \\ 1 \end{pmatrix} - \begin{pmatrix} 1 \\ 0 \\ 0 \end{pmatrix} = \begin{pmatrix} 3 \\ 4 \\ 4 \end{pmatrix}$$

である。

(解答例2)  $a, u_1, u_2$  に具体的な数値を代入して  $J$  を展開すると、

$$\begin{aligned} J &= \frac{1}{2} \|c_1 \mathbf{u}_1 + c_2 \mathbf{u}_2 - \mathbf{a}\|^2 \\ &= \frac{1}{2} \left\| c_1 \begin{pmatrix} 1 \\ 1 \\ 1 \end{pmatrix} + c_2 \begin{pmatrix} 1 \\ 0 \\ 0 \end{pmatrix} - \begin{pmatrix} 3 \\ 2 \\ 6 \end{pmatrix} \right\|^2 \\ &= \frac{1}{2} \left\| \begin{pmatrix} c_1 + c_2 - 3 \\ c_1 - 2 \\ c_1 - 6 \end{pmatrix} \right\|^2 \\ &= \frac{1}{2} \{c_1^2 + c_2^2 + 9 + 2c_1c_2 - 6c_1 - 6c_2 + c_1^2 - 4c_1 + 4 + c_1^2 - 12c_1 + 36\} \\ &= \frac{1}{2} \{3c_1^2 + c_2^2 + 2c_1c_2 - 22c_1 - 6c_2 + 49\} \end{aligned}$$

となる。これを  $c_1, c_2$  で偏微分すると、

$$\begin{aligned} \frac{\partial J}{\partial c_1} &= \frac{1}{2} \{6c_1 + 2c_2 - 22\} = 3c_1 + c_2 - 11 \\ \frac{\partial J}{\partial c_2} &= \frac{1}{2} \{2c_1 + 2c_2 - 6\} = c_1 + c_2 - 3 \end{aligned}$$

となる。これらを 0 とおくと以下の連立一次方程式が得られる。

$$\begin{aligned} 3c_1 + c_2 &= 11 \\ c_1 + c_2 &= 3 \end{aligned}$$

これを解くと、 $c_1 = 4, c_2 = -1$  となる。以上より、 $a$  に最も近い  $u_1, u_2$  の線形結合は、

$$4\mathbf{u}_1 - \mathbf{u}_2 = 4 \begin{pmatrix} 1 \\ 1 \\ 1 \end{pmatrix} - \begin{pmatrix} 1 \\ 0 \\ 0 \end{pmatrix} = \begin{pmatrix} 3 \\ 4 \\ 4 \end{pmatrix}$$

である。